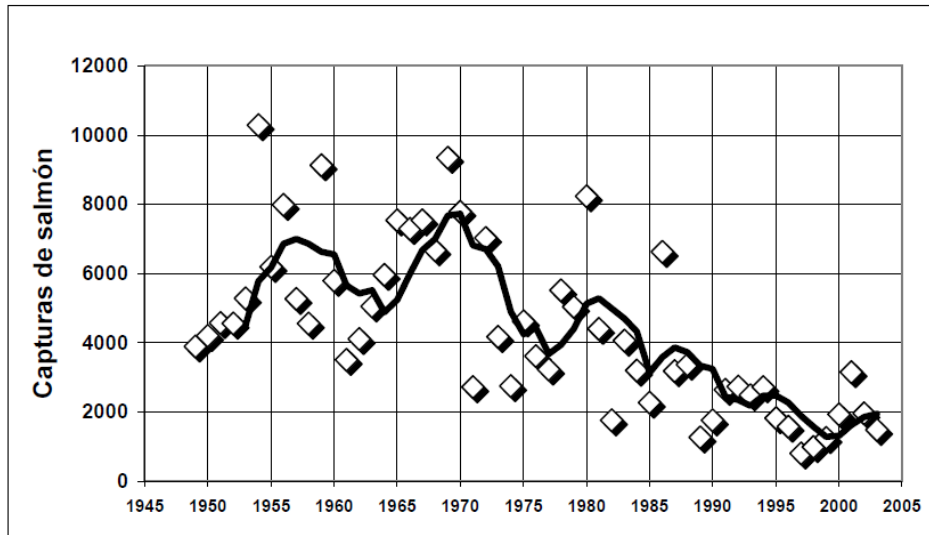
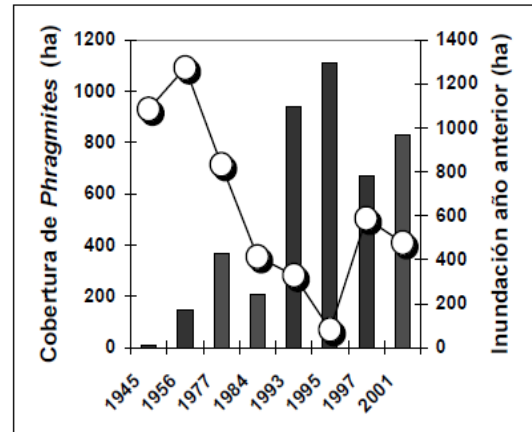
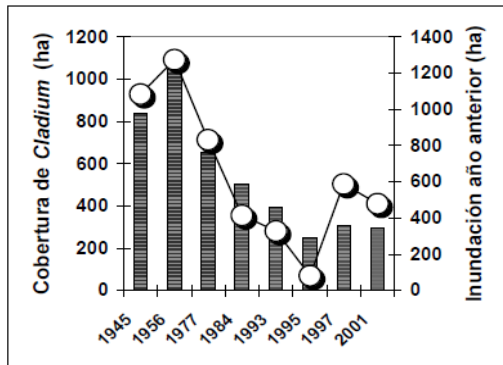


EJERCICIOS LECCIÓN 13. Implicaciones del cambio global sobre los ecosistemas acuáticos continentales.

1. En la figura se presenta las capturas de salmón en ríos del Norte de España. La línea gruesa es una media móvil. Explica la tendencia que se observa en relación con el cambio climático.



2. En la siguiente figura se presenta la cobertura de dos especies de helófitos en la Tablas de Daimiel (carrizo: *Phragmites* y masiega: *Cladium*) en relación con la inundación de la Tablas del año anterior. Analiza la figura y justifica cual de las dos especies sería dominante en caso de cumplirse las predicciones del cambio climático.



Una vez realizados los ejercicios, enviar esta HOJA DE TRABAJO a [María Rosario Vidal-Abarca Gutiérrez](#) a través de una Tutoría en SUMA.

Enviar el ejercicio como documento adjunto en word o similar.
Indicar en el asunto: EJERCICIO LECCIÓN 13.